


空中写真判読用紙

氏名（

） 介護体験または教育実習による欠席者用作業用資料

作業：Google Earth で柏原市の空中写真を見て，1～6 の 300m 四方の四角の範囲に見られるものを，下の□の中に描いて，□の右にその特徴を記述する．そして，そのさらに右の問いに答える．



1 柏原市東部のブドウ畑の様子

ブドウ畑の特徴は何か？

ブドウ畑は，柏原市のどのようなところにあるか？それはどうしてか？

2 柏原市東部の森林の様子


森林の特徴は何か？

森林は，柏原市のどのようなところにあるか？それはどうしてか？

3 柏原市南東部の水田の様子

水田の特徴は何か？


水田は，柏原市のどのようなところにあるか？それはどうしてか？



4 柏原市北西部の低層の住宅地の様子

低層の住宅地の特徴は何か？


低層の住宅地は、柏原市のどのようなところにあるか？それはどうしてか？



5 柏原市西部の工場の様子

工場の特徴は何か？

工場は、柏原市のどのようなところにあるか？それはどうしてか？



6 河内国分駅前の高層の住宅地および商業施設の様子

高層の住宅地および商業施設の特徴は何か？

高層の建物は、柏原市のどのようなところにあるか？それはどうしてか？
